

مدت زمان آزمون: ۴۵ دقیقه	ساعت شروع آزمون:	نوع آزمون: مداد کاغذی نام آزمون: ریاضی	دبستان غیردولتی ره آورد حویق سال تحصیلی ۱۴۰۰_۱۴۰۱
تاریخ آزمون: ۱۴۰۱/۳/۱۱ پایه: پنجم		نام و نام خانوادگی آموزگار: سعیده بیرامپور	نام و نام خانوادگی:

آموختن علم بر هر انسانی واجب است . همانا خداوند علم آموزان را دوست دارد . حضرت رسول اکرم (ص)

۱_ عدد ۳۵۶/۴۸ را وارد جدول ارزش مکانی کنید و به سوالات پاسخ دهید.

الف) عدد ۳ و ۴ چه ارزش مکانی دارند؟

ب) عدد را به حروف بنویسید.

۲_ الگوهای زیر را ادامه دهید.

..... و و و ۲/۶۰ و ۲/۵۸ و ۲/۵۶

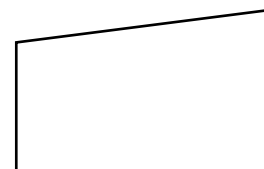
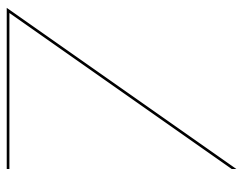
..... و و و ۱:۳۰ و ۱:۲۷

۳- حاصل عبارت های زیر را بدست آورید.


۴- اعداد زیر را ساده کنید.

۵_ برای خرید کالایی به قیمت ۴۰۰۰۰ تومان با تخفیف ۳۵٪ تخفیف چند تومان باید بپردازیم؟

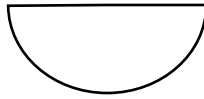
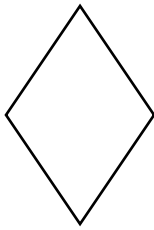
۶_ در شکل های زیر اندازه زاویه مشخص شده را پیدا کنید .



۷_ حجم شکل زیر را به دست آورید .



۸_ محیط و مساحت شکل های زیر را حساب کنید.



۹_ میانگین اعداد زیر را حساب کنید .

۲۰/۵ و ۱۸ و ۱۲ و ۵ و ۴/۵

۱۰_ نمودار ستونی ای رسم کنید که تعداد ساعات مطالعه ی هر یک از دانش آموزان را نشان دهد .

نام دانش آموزان	محنا	مهري	زهرا	پريا	سوگند	فاطمه	مليکا
تعداد ساعات مطالعه	۳/۵	۴	۲	۱/۵	۱/۵	۳	۴

نیاز به تلاش بیشتر	متوسط	خوب	خیلی خوب	انتظارات
				جدول ارزش مکانی و سوالات را به درستی پاسخ می دهد .
				الگوها را به درستی انجام می دهد .
				جمع و ضرب و تقسیم را به درستی انجام می دهد .
				ساده کردن اعداد را به درستی انجام می دهد .
				مسئله را به درستی انجام می دهند .
				زاویه های خواسته شده را به درستی پیدا می کند .
				حجم شکل را به درستی حساب می کند .
				محیط و مساحت شکل را حساب می کند .
				میانگین را به درستی حساب می کند .
				نمودار ستونی را به درستی رسم می کند .

بازخورد آموزگار :

جزوه سیپی

جزوه سبیتی

ضعیف	متوسط	خوب	خیلی خوب	انتظارات

بازخورد آموزگار:

جزوه سیپی